

10-11 классы.

Время выполнения работы – 1 час (60 мин.)

Допустимые к использованию инструменты – калькулятор.

С 1 по 15 вопрос – по 1 баллу.

16 – 22 вопрос – по 2 балла (2 балла, если все соответствия указаны верно)

23 – 3 балла.

Максимальное количество баллов: 32 балла.

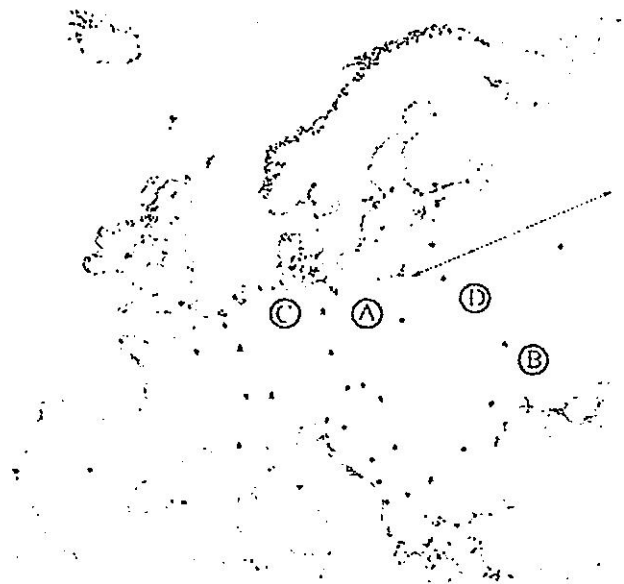
18 + 1. В какой из перечисленных стран доля пожилых людей в возрастной структуре населения наибольшая?
1) Малайзия 2) Швейцария 3) Танзания 4) Аргентина.

08 - 2. Какой из названных в задании городов Уральского экономического района имеет наибольшую численность населения?
1) Курган 2) Нижний Тагил 3) Оренбург 4) Пермь

08 - 3. Какая из перечисленных областей имеет наибольшую среднюю плотность населения?
1) Архангельская 2) Ростовская 3) Мурманская 4) Омская

18 + 4. В каком из перечисленных регионов России степень распаханности территории наибольшая?
1) Курская область 2) Новгородская область
3) Республика Калмыкия 4) Республика Карелия

+ 5. Какой буквой на карте обозначена территория Польши?



18 1) A 2) B 3) C 4) D

18 + 6. Основная часть российского импорта приходится на:
1) минеральное топливо и металлы 2) продовольствие
3) продукцию легкой промышленности 4) машины и оборудование

18 + 7. Россия занимает первое место в мире по:
1) производству мяса 2) площади пашни
3) площади лесов 4) производству сахарной свеклы

18 + 8. Наибольшая часть внешнеэкономического оборота России приходится на:
1) Китай 2) страны ЕС 3) страны СНГ 4) страны Африки

9. По сравнению со среднемировыми показателями в России ниже

- 1) доля пожилых людей в общей численности населения
2) смертность
3) доля детей в общей численности населения
4) доля городского населения

+ 15

10. Особенностью природы Италии является

- 1) преобладание степной растительности
2) наличие действующих вулканов
3) влажный тропический климат
4) преобладание низменностей в рельефе

- 05

11. В каком из перечисленных регионов России наиболее развито овцеводство?

- 1) Республика Калмыкия
2) Ленинградская область
3) Республика Марий Эл
4) Хабаровский край

+ 15

12. Какая из перечисленных стран является членом АСЕАН?

- 1) Новая Зеландия
2) Индонезия
3) Индия
4) Нигерия

+ 15

13. Примером рационального природопользования является

- 1) распашка целинных земель
2) создание терриконов вблизи шахт
3) создание лесополос в степной зоне
4) сплав леса по крупным рекам

+ 15

14. В какой из перечисленных стран доля сельского населения больше доли городского?

- 1) Сомали
2) ЮАР
3) Республика Корея
4) Сингапур

+ 15

15. Какое соответствие «отрасль животноводства — страна, специализирующаяся на этой отрасли» является верным?

- 1) молочное скотоводство — Монголия
2) овцеводство — Финляндия
3) свиноводство — Турция
4) мясное скотоводство — Аргентина

+ 15

16. Установите соответствие между субъектом РФ и его административным центром: к каждому элементу первого столбца подберите соответствующий элемент из второго.

СУБЪЕКТ РФ	АДМИНИСТРАТИВНЫЙ ЦЕНТР
А) Амурская область Б) Забайкальский край В) Республика Коми	1) Улан-Удэ 2) Чита 3) Благовещенск 4) Сыктывкар

05

Запишите в ответ цифры, расположив их в порядке, соответствующем буквам.

17. Установите соответствие между страной и её столицей: к каждому элементу первого столбца подберите соответствующий элемент из второго и внесите в строку ответов выбранные цифры в правильной последовательности.

СТРАНА	СТОЛИЦА
А) Турция Б) Киргизия В) Таиланд	1) Анкара 2) Исламабад 3) Бишкек 4) Бангкок

25

Запишите в ответ цифры, расположив их в порядке, соответствующем буквам.

18. Расположите перечисленные страны в порядке возрастания в них естественного прироста населения (на 1 тыс. жителей).

- А) Нидерланды Б) Канада В) Чили Г) Нигер

- 0 6.

19. Установите соответствие между субъектом федерации и цифрой, которой он обозначен на карте.



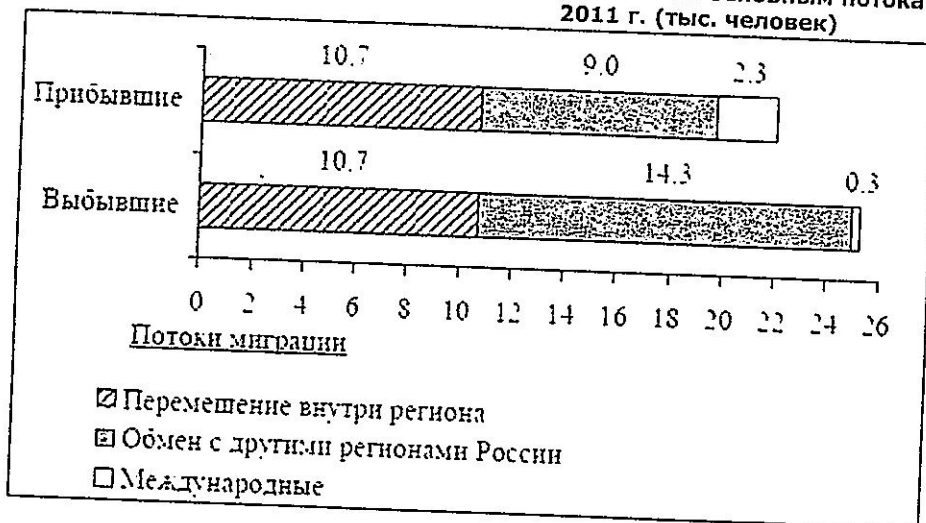
СУБЪЕКТ РФ	ЦИФРА
А) Забайкальский край	Б) 1
Б) Омская область	Б) 2
В) Челябинская область	3) 3
	А) 4) 4

+ 20.

Запишите в ответ цифры, расположив их в порядке, соответствующем буквам.

20. Используя данные диаграммы, определите величину миграционного прироста населения Ульяновской области в 2011 г. Ответ запишите цифрами.

Распределение числа мигрантов по основным потокам передвижения, 2011 г. (тыс. человек)



- 0 6.

21. Определите страну по ее краткому описанию. Ответ: Финляндия +

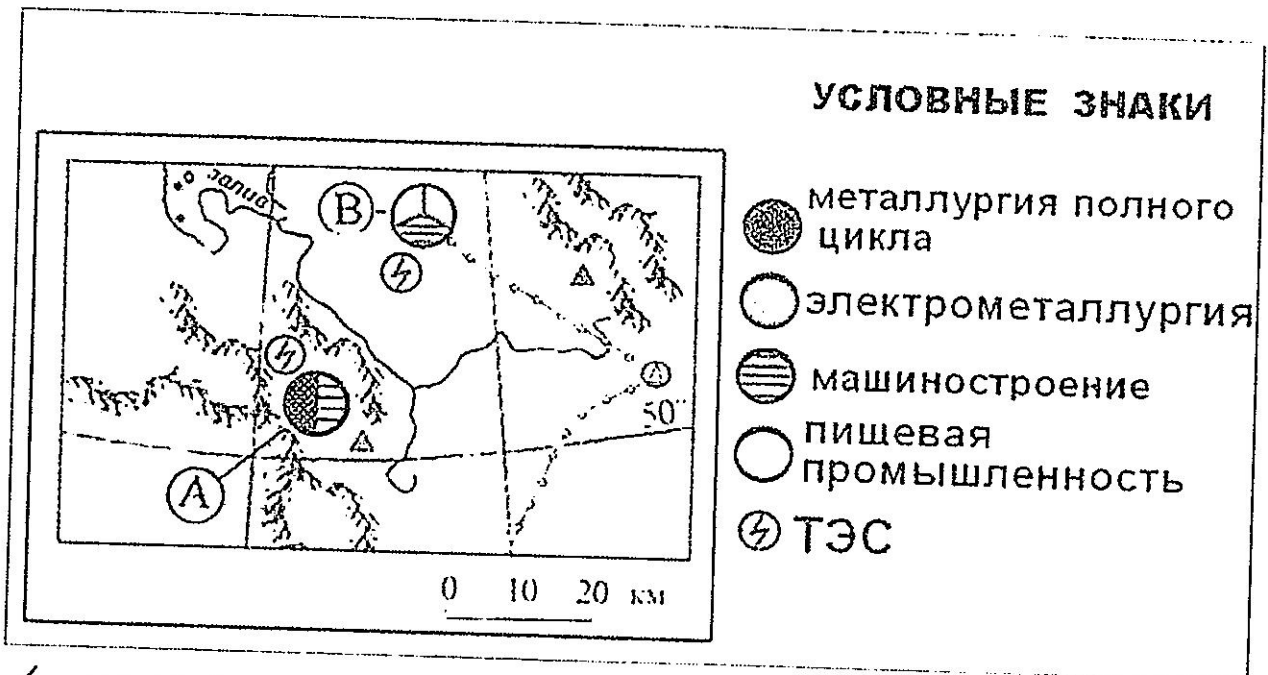
Особенностью географического положения этой страны является выход к Балтийскому морю и наличие сухопутной границы с Россией. По форме правления эта страна является республикой. Главные природные богатства страны - лесные ресурсы, а также руды черных и цветных металлов. В международном географическом разделении труда страна выделяется как крупный экспортер продукции лесной и целлюлозно-бумажной промышленности, высокотехнологичных отраслей машиностроения, в том числе телекоммуникационного оборудования и мобильных телефонов.

22. Определите регион России по его краткому описанию.

20.

Эта область расположена в лесной зоне. Особенностью ее ЭГП является пограничное положение с одной из стран СНГ. По ее территории проходят важнейшие транспортные магистрали, связывающие Россию со странами Западной Европы. Никаких полезных ископаемых, кроме торфа, строительных материалов и небольших запасов бурого угля, в области нет. Основными отраслями промышленности являются машиностроение, химическая, легкая и пищевая промышленность. Энергией хозяйство области обеспечивает крупная современная АЭС *Шалейская*.

23. Определите, в каком из промышленных центров, обозначенных на карте буквами А и В, будет наблюдаться наименьшее загрязнение атмосферы. Для обоснования своего ответа приведите три довода. Если вы приведете более трех доводов, оцениваться будут только три указанных первыми.



- 1 - рельсор -
 2 - ТЭС +
 3 - металлургия. +